



Ginástica Mental



Observe as formas
geométricas que
aparecerem tendo em
atenção a ordem pela
qual aparecem





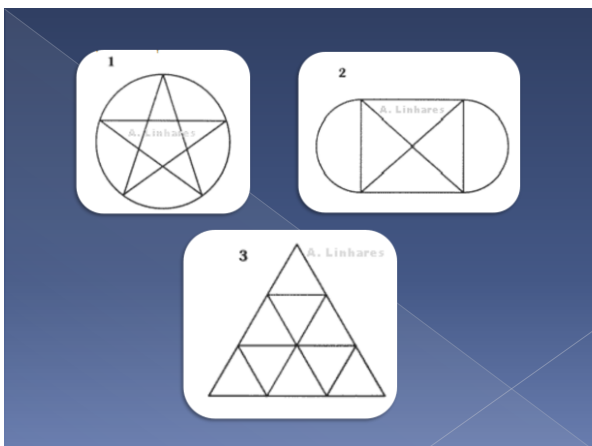
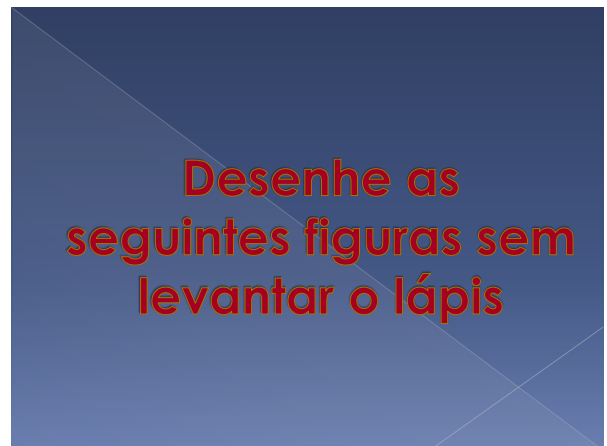
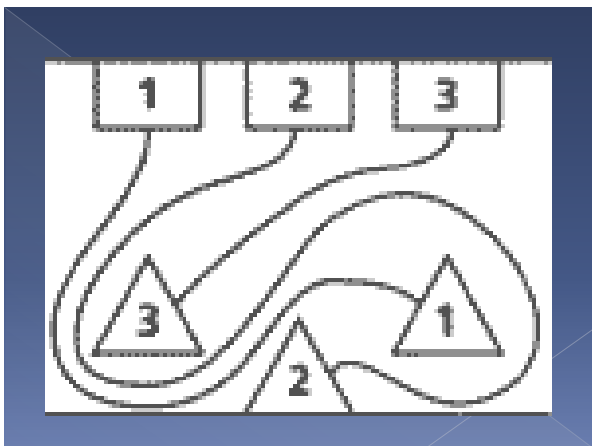

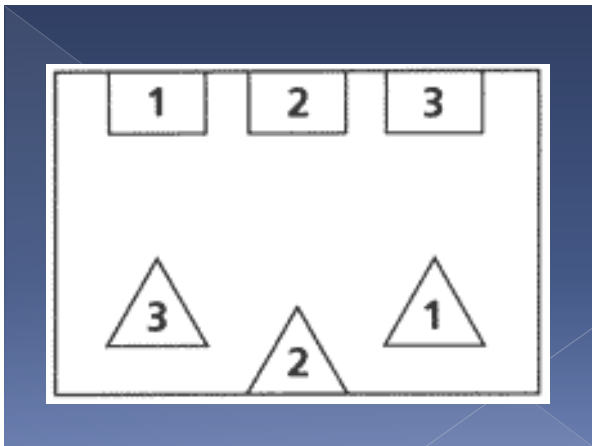
**Escreva as formas pela
ordem que apareceram**

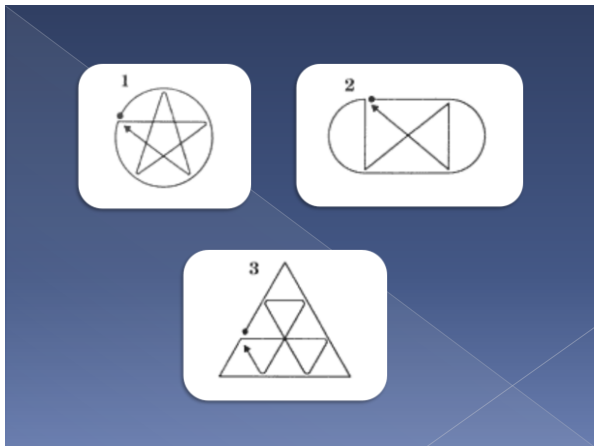
**Memorize os animais
que aparecerem**



**Escreva os animais
que apareceram**

**Faça a ligação
entre os números
de cima e os de
baixo, sem que as
linhas se cruzem**





Sopa de Letras

	RE	P	I	N	G	U	I	M	U	N	G	
	R	I	N	O	C	E	R	O	N	T	E	V
	F	C	F	J	H	C	N	P	R	L	H	E
	K	X	D	E	K	K	H	F	P	B	W	J
	Z	E	B	P	T	P	A	N	D	A	A	X
	J	E	D	Y	S	Z	Y	J	N	V	D	O
	K	T	W	O	R	G	O	R	I	L	A	H
	H	W	K	L	K	A	T	I	G	R	E	I
	Y	O	H	L	R	A	T	F	L	T	A	Z
	T	T	A	R	T	A	R	U	G	A	P	U
	G	U	R	S	O	C	P	O	L	A	R	V
	B	O	R	B	O	L	E	T	A	M	D	W







Solução

	RE	P	I	N	G	U	I	M	U	N	G	
	R	I	N	O	C	E	R	O	N	T	E	V
	F	C	F	J	H	C	N	P	R	L	H	E
	K	X	D	E	K	K	H	F	P	B	W	J
	Z	E	B	P	T	P	A	N	D	A	A	X
	J	E	D	Y	S	Z	Y	J	N	V	D	O
	K	T	W	O	R	G	O	R	I	L	A	H
	H	W	K	L	K	A	T	I	G	R	E	I
	Y	O	H	L	R	A	T	F	L	T	A	Z
	T	T	A	R	T	A	R	U	G	A	P	U
	G	U	R	S	O	C	P	O	L	A	R	V
	B	O	R	B	O	L	E	T	A	M	D	W






Jogo das Diferenças



Complete as frases

1. A Alexandra comeu o _____ de aniversário.
2. O café é servido na _____, que vem em cima do _____.
3. O coelho gosta de comer _____.
4. Os gelados guardam-se no _____.
5. O _____ serve para vermos as horas.
6. No cinema come-se _____.
7. O barco é um meio de transporte _____.
8. As girafas têm um _____ enorme.
9. A _____ é a estação do ano em que há mais flores.
10. O triciclo é um veículo de __ rodas.

Soluções

1. A Alexandra comeu o **BOLO** de aniversário.
2. O café é servido na **CHÁVENA**, que vem em cima do **PIRES**.
3. O coelho gosta de comer **CENOURA**.
4. Os gelados guardam-se no **CONGELADOR**.
5. O **RELÓGIO** serve para vermos as horas.
6. No cinema come-se **PIFOCAS**.
7. O barco é um meio de transporte **AQUÁTICO**.
8. As girafas têm um **PESCOÇO** enorme.
9. A **PRIMAVERA** é a estação do ano em que há mais flores.
10. o triciclo é um veículo de **3** rodas.

Copie as seguintes imagens



FIM